

Всероссийская олимпиада школьников по краеведению 2025/2026 учебный год

Региональный этап

Шифр участника

--	--	--	--	--	--	--

Фамилия _____

Имя _____



Отчество _____

Класс _____

Полное и сокращенное наименование образовательной организации (школы)

Задания с указанием баллов

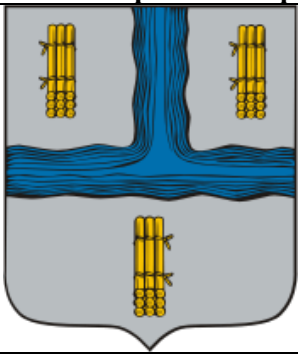



Регионального этапа Всероссийской олимпиады по краеведению 2025/2026 учебный год

№ № п/п	Содержание задания	Количество баллов
1	<p>Известно, что городища вятичей обычно располагались на мысах. Одной стороной они выходили к реке, с двух других ограничивались низинами, оврагами или ручьями, четвёртая сторона пересекалась валом или рвом. Примером такого раеположения может служить городище, расположенное в 2 км выше устья реки, сыгравшей решающую роль в образовании русского централизованного государства, на левом берегу реки – главной водной артерии Калужского края, возвышающемся над поймой на 15–18 метров. Это прямоугольный мыс с крутыми склонами и немного покатой поверхностью. Центральная часть городища — детинец — размером 3 тыс. м² окружена рвом глубиной 3 м. и валом высотой 6 м. К нему примыкала площадка в 900 м², тоже окруженная рвом и валом.</p> <p>1. Напишите название данного городища и название рек, протекающих рядом? 2. Укажите современное название монастыря, находящегося неподалеку от городища? 3. Укажите к каким векам относят историки остатки городища, в частности его крепостной стены? Возможно, Вам в этом помогут фото 1 и фото 2</p>  <p>Фото 1</p>  <p>Фото 2</p> <p>Ответ: 1. _____;</p> <p>2. _____;</p> <p>3. _____.</p> <p>Ответ: 1. городище – Спас-Городок, реки Угра и Ока (зачет – только с правильным указанием городища и рек). 2. Спасо-Преображенский Воротынский монастырь (зачет – Спас на Угре). 3. IX–XI вв.</p>	3 балла (по 1 баллу за каждый ответ).
2	<p>Не секрет, что, используя знания из гидронимики и топонимики, можно объяснить происхождение слов. Вооружившись этими знаниями, попробуйте вывести этимологию названия города «Калуга», а в качестве примера Вам дано объяснение названия знатоком русского языка В. И. Далем: «Калуга» («калужа») – от слова «лужа», «болото», «топь». А что, по вашему мнению могут означать топонимы:</p> <p>1. КАЛЫГА (древнерус.) - _____</p> <p>2. КУЛИГА (угро-фин.) - _____</p> <p>3. КАЛГА (монгол.) - _____</p>	4 балла (по 1 баллу за каждый верный ответ)



4. Вспомните, когда впервые упоминается в источнике этот город?

Ответ: 1. КАЛЫГА (древнерус.) - «забор, ограда или улица»; 2. КУЛИГА (угро-фин.) - «глухое место в лесу»; 3. КАЛГА (монгол.) - «застава»; 4. 1371 г.

3 Перед вами изображения гербов городов Калужской губернии (области), символизирующие, в частности, реки, на которых расположены города. В колонке «город» впишите его название, соответствующее изображению, не забудьте написать и название рек(-и)!!!.


Город	Изображение гербов
А. _____ Реки _____	
Б. _____ Река _____	
В _____ Река _____	
Г _____ Реки _____	


6 баллов
(по 1 баллу за правильный ответ (название города и название рек(-и))

	Д _____ Река _____			
	Е _____ Река _____			
	<p>Ответ: А – Жиздра (р. Жиздра и Ока); Б – Сухиничи (р. Брынь); В – Калуга (р. Ока); Г– Юхнов (р. Кунова, Угра, Ока – зачет любые две); Д – Перемышль (р. Ока); Е – Таруса (р. Таруз (са))</p>			
4	<p>В «Летописи Калужской» читаем: «В 1 _____ году Великий Князь Дмитрий Иоаннович 2 _____ <i>(пропущено прозвище Великого князя)</i> по духовной отдал в удел третьему сыну своему, 3 _____ <i>(пропущено имя сына Великого князя)</i>, Можайск с волостями, между коими видны Поротва, село Репнинское, и другие, и особо 4 _____ <i>(пропущено название города)</i>, 5 _____ <i>(пропущено название города – одного из центров муниципального округа региона)</i>, рошу в Перемышле, села Деулинское и Луг Боровский. Городня досталась в удел большому сыну Василью...»</p> <p>Заполните пропуски, ориентируясь на подсказки!</p> <p>Ответ: 1) 1389; 2) Донской; 3) Андрей; 4) Калуга; 5) Медынь</p>			<p>5 баллов (по 1 баллу за каждый правильный ответ)</p>

- 5 Впишите в колонку фамилии известных художников, родившихся на территории или посещавших в разное время Калужский край, вспомните и соотнесите фамилии с изображением (Буква) художников и репродукциями их картин (Цифра) в таблице. Может Вам помогут названия картин (даны в произвольном порядке): «В 1812 году»; «Ока близ Тарусы»; «Курсистка»; «Полдень в деревне (деревня Желны Калужской губернии Масальского уезда) И... фамилии двух художников: Николай Александрович Ярошенко; Пётр Александрович Суходольский (даны в произвольном порядке). Остальные придётся Вспомнить!!!

4 балла
(по 1 баллу за каждую полностью правильно заполненную строку в таблице)



Ф.И.О. деятеля	Изображение (буква)	Картина
		 <p>1.</p>
		<p>2.</p>

Ответ: А - Илларион Михайлович Прянишников (1840 – 1894), картина – 3 «В 1812 году»; Б- Василий Дмитриевич Поленов (1844-1927), картина – 4 «Ока близ Тарусы»; В – Николай Александрович Ярошенко (1846-1898), картина – 1 «Курсистка»; Г - Пётр Алексáндрович Суходóльский (1835-1903), картина – 2 «Полдень в деревне (деревня Желны Калужской губернии Масальского уезда)»

№ п/п	Содержание задания	Количество баллов
6.	<p>Укажите, какие утверждения правильны и соответствуют историческим фактам:</p> <ol style="list-style-type: none"> 1) Депутаты от земли Калужской принимали участие в работе Земского собора 1649 года; 2) Сильное «моровое поветрие» затронуло Калугу в 1564 году; 3) Калужский край полностью вошёл в состав Российского государства в 1667 году; 4) Большое торговое с. Спасское было присоединено к Калуге в 1652 году; 5) Царь Федор Иванович был на богомолье в Боровском монастыре в 1599 г.; 6) Удельное княжество Калужское было ликвидировано в 1525 году; 7) князья Мосальские перешли на сторону Москвы в 1510 году; 8) Калужский воевода М.Безнин выиграл сражение с крымскими татарами на р. Высса в 1584 году 	3 балла (по 1 баллу за каждый правильный ответ)

Ответ: 1, 3, 8

7. Перед Вами несколько картин, в основу которых положены эпизоды известных исторических событий. Пять картин из шести отражают события, непосредственно произошедшие на территории Калужского края, из них 2 написаны в советское время, одна до революции. Две картины современных авторов, но лишь одна картина принадлежит кисти художника, уроженца Калуги, безвременно ушедшего из жизни в 2014 году.

1. Назовите фамилию современного художника - калужанина, укажите историческое событие, которому посвящена его картина. 2. Укажите картину, событие на которой не связано Калужским краем, ответ обоснуйте. 3. Расположите картины, связанные с историей Калужского края, в хронологической последовательности изображённых на них эпизодов события. 4. Напишите, каким историческим событиям, случившимся в Калужской губернии посвящены картины, укажите год событий. Ответ оформите в виде таблицы.

А.



Б.



8 баллов (по 1 баллу за каждую правильно заполненную строку в таблице – 5; 1 балл – верно указанное историческое событие и ФИО современного художника; 1 балл за обоснованное исключение и 1 балл за хронологическую последовательность)

В.



Г.



Д.



Е.



Последовательность	Буквенное обозначение картины	Событие, изображенное на картине, обязательно указать год, когда оно произошло
1.	В	Оборона Козельска в 1238 г.
2.	А	Великое Стояние на р. Угре 1480 г.
3.	Г	Оборона калужской крепости войсками Болотникова (Восстание Болотникова 1606–1607)
4.	Е	Прибытие Лжедмитрия II в Калугу после бегства из Тушина 1609 г.
5.	Б	Дивизионный генерал А.Ж. Дельзон в бою за Малоярославец 12 (24) октября 1812 года (зачет – Сражение за Малоярославец 1812 г.)

Фамилия современного художника и историческое событие, которому посвящена его картина Павел Рыженко; Стояние на р. Угре



Исключение: Д – «Героическая оборона Старой Рязани от монголо-татарских войск в 1237 году» - диорама, созданная Е.И. Дешалытом

8. Укажите соответствие между событиями XVIII века, происходившими на территории Калужского края и датами этих событий

- 1) Основание Меньшовского доменного завода в Оболенском уезде
 - 2) Посещение Калуги императрицей Екатериной II
 - 3) Покупка Никитой Демидовым Ромодановской волости
 - 4) Основание Калужского театра
 - 5) Образование Калужской провинции
 - 6) Закладка полотняно-парусной мануфактуры купцом Карамышевым
 - 7) Первое применение Родионом Глинкавым многоверетенной прядильной машины на серпейской фабрике
 - 8) Учреждение калужским купцом Н. Шемякиным с компаньоном Константинопольской коммерческой компании
 - 9) Основание Первой Калужской типографии
 - 10) Посещение Петром I Истинского завода
- а) 1756 г.
б) 1739 г.

10 баллов (по 1 за каждый правильный ответ)

	в) 1775 г. г) 1705 г. д) 1777 г. е) 1793 г. ж) 1760 г. з) 1719 г. и) 1718 г. к) 1722 г. Ответ:								
1) г	2) в	3) б	4) д	5) з	6) и	7) ж	8) а	9) е	10) к

№ п/п	Содержание задания	Количество баллов
9.	<p>Соотнесите изображения и факты из истории известных монастырей, располагающихся (-шихся) на Калужской земле, ответ оформите в виде таблицы, заполнив пустые колонки. Напишите название города (населённого пункта) в котором, или рядом с которым находится монастырь</p> <p>А</p>  <p>Б</p> 	<p>4 балла (1 балл за каждый правильный ответ)</p>



В



Г.



Название монастыря и месторасположение	Изображение (буква)	Факты из истории монастыря
_____	_____	<p>1. Данный монастырь относится к числу несохранившихся памятников архитектуры. Основанный в начале XVI в. монастырь был полностью уничтожен в конце 20 - начале 30-х гг. XX в., вместе с ним погиб и уникальный некрополь, в котором, в частности был захоронен герой Тарутинского сражения – Карл Багговут. Ныне его территория находится в пределах города. В данном монастыре был похоронен особо чтимый в Калужском крае святой, спасший удельного князя Симеона Ивановича при набеге крымских татар. В память об этом событии, по мнению историка-краеведа Л. Кавелина, именно Симеон основал данный монастырь, тогда носивший имя Рождественского по церкви, находившейся в центре обители.</p>
_____	_____	
_____	_____	

			<p>2. История основания монастыря стала отголоском монголо-татарского нашествия: как известно, дед основателя обители был татарин, который принял Православие с именем Мартин и положил начало благочестивому роду, из которого появился будущий «светильник» православной веры. Духовный авторитет основателя монастыря притягивал в обитель многих людей. В разное время великие князья Василий II, Иван III, Василий III, цари Иван IV Грозный, Федор Иванович, Михаил Романов и Алексей Михайлович не раз приезжали в монастырь на богомолье. В Смутное время монастырь оказался на пути польско-литовских захватчиков во главе со Лжедмитрием II и стал ареной кровавых событий, в результате которых подвиг православных защитников обители просиял в веках, а город, в котором она находится, получил новый герб. События церковного раскола, мучительно переживаемые Церковью, также коснулись монастыря – главный идейный вдохновитель старого церковного порядка протопоп Аввакум дважды содержался под стражей в стенах данной обители. Расположение монастыря на пути армии «двунадесяти языков» под предводительством Наполеона в 1812 году повлекло за собой разграбление и частичное разрушение обители. Великая Отечественная война 1941-1945 гг. также оставила след в истории монастыря: он вновь был разрушен и разграблен, но сумел выстоять и возродиться.</p>	
			<p>3. Данный монастырь располагался в 8 километрах от уездного города (теперь районного центра) на берегу реки Оки.</p> <p>Первое достоверное упоминание о об этой обители относится к 1559 г. Хотя, по мнению историков, основан монастырь князьями Воротынскими в 1504 г. Название якобы получил от прозвища надзирателя за стройкой. За время своего существования монастырь имел довольно богатую историю. В 1563 г., во время своей поездки в Калужский край монастырь посетил царь Иван Грозный. В Смуту монастырь был разорен гетманом Сапегой.</p> <p>Настоятель монастыря архимандрит Савватий в 1613 г. подписал в Москве грамоту об избрании на царство Михаила Федоровича Романова. В 1618 г. монастырь в очередной раз разорил гетман Сагайдачный. И лишь с 1653 г. начинается обновление и благоустройство этого монастыря ближним боярином и оружейни-</p>	

		чим царя Алексея Михайловича, а потом и Федора Алексеевича – Богданом Матвеевичем Хитрово. Благоустройство обители продолжалось до 1756 г. В 1894 г. игуменом монастыря становится бывший воспитанник Оптиной пустыни отец Герасим, который наводит во вверенной ему обители строгие порядки, способствовавшие улучшению материального и духовного благосостояния монастыря, продолжавшиеся до 1917 года. В 1918 г. монастырь был закрыт. К настоящему времени обитель полностью разрушена, но идёт процесс восстановления.
<hr/> <hr/> <hr/>	<hr/> <hr/>	<p>4. Точная дата основания данного монастыря не известна, но предание гласит, что в XIV в. удельные князья Оболенские построили в этом городе церковь во имя Святителя Николая. По мнению архимандрита Леонида Кавелина, первого историка монастыря, обитель была основана позже – в начале XVI столетия, уже по присоединении города к Великому княжеству Московскому.</p> <p>В XVII–XVIII вв. монастырь был мало кому известен. Возрождение обители тесно связано с именем купца Терентия Целибеева – именно он посвятил свою жизнь и все свои денежные средства на восстановление монастыря. Под стенами монастыря произошло знаменитое сражение, которое решило судьбу не только России, но и Европы. В результате сражения обитель была сожжена и разграблена.</p> <p>В 1993 г. монастырь был переведен в статус женского.</p>

Ответ: А – Боровский Пафнутьевский монастырь (Боровск), факт – 2; Б – Малоярославецкий Черноостровский монастырь (Малоярославец), факт – 4; В – Свято-Троицкий Лютиков монастырь (Перемышль/ с. Корекозево), факт – 3; Г – Калужский Лаврентьев монастырь (Калуга), факт – 1

10.	<p>Этот известнейший советский писатель, четырежды номинированный на Нобелевскую премию по литературе, писал об этом уютном городке на Калужской земле: «Да будет вам известно, что _____ (пропущено название города) стоит на горах (из белого камня) и Белокаменная Москва и Кремль построены целиком из местного (прилагательное из источника заменено) камня. Вокруг – просторы и леса, чистые реки с водопадами – не считая могучей Оки, миллионы соловьёв и цветов... По Оке ходят крошечные пароходы, на которых ездили Чехов и Левитан, а также поэт Бальмонт, живший в качестве дачника в _____ (пропущено название города) в те времена, когда он прогремел на всю Россию своими стихами: „Я — изысканность русской медлительной речи...».</p> <p>Назовите: 1. Город, название которого дважды пропущено в тексте. 2. Назовите фамилию и имя известного писателя, возможно в этом Вам помогут фотографии 1 и 2.</p> <div style="display: flex; justify-content: space-around; align-items: flex-start;"> <div style="text-align: center;">  <p>Фото 1</p> </div> <div style="text-align: center;">  <p>Фото 2</p> </div> </div> <p>Ответ. 1 _____; 2. _____</p> <p>Ответ. 1. Таруса 2. Константин Георгиевич Паустовский (1892–1968)</p>	<p>2 балла (по 1 баллу каждый правильный ответ)</p>
11.	<p>Перед Вами фотографии монументальных и скульптурных композиций, посвящённых важнейшему событию отечественной истории, напрямую связанному с Калужским краем. Все они, за исключением одной композиции находятся в одном городе.</p> <p>1. Назовите это историческое событие? 2. Постарайтесь определить в каких населённых пунктах находятся данные памятники? 3. Если сможете, то дайте правильное название данных памятников (кому конкретно они посвящены или чью память увековечивают)? В случае с изображением «Д» для зачёта ответа напишите Ещё какой подвиг совершил герой, согласно принятой у краеведов версии? Ответ напишите в правом столбце</p>	<p>8 баллов (по 1 баллу за каждый правильно указанный памятник с указанием подвига (изображение «Д») – 5 баллов; 1 балл за историческое событие; 2 балла – за правильно указанные населённые пункты)</p>


A**Б****В****Г**

	<div>Д</div> <div></div>	<div></div> <div></div> <div></div> <div></div> <div></div> <div></div> <div></div> <div></div> <div></div> <div></div>		
	<div>Е</div> <div></div>	<div></div> <div></div> <div></div> <div></div> <div></div> <div></div> <div></div> <div></div> <div></div> <div></div>		
	<div>Ответ: 1. _____; 2. _____; 3 _____</div> <div>Ответ: 1. Отечественная война 1812 года. 2. А-Д – Малоярославец; Е - Тарутино. А – Монумент Славы (зачет – монумент в память Малоярославецкого сражения); Б – Памятник на братском кладбище; В – Памятник полковым священникам (Василию Васильковскому); Г – Монумент в честь павших воинов; Д – Памятник Савве Беляеву (подвиг – разобрал плотину); Е- Монумент «в знак освобождения в 1812 году России от неприятеля» (зачет – в честь Тарутинского лагеря (сражения))</div>			
12.	<div>В 2026 г. наступает весьма своеобразный «юбилей», связанный с расправой над участниками некоего выступления, носившего революционный характер. К счастью, не все участники были казнены, а некоторые из тех, что остались живы, затем нашли пристанище на Калужской земле. Прочтите краткие биографические справки и назовите имя, отчество и фамилию (для изображения №1 ФИО строго обязательно) двух непосредственных участников выступления.</div> <div>1. Родился в Новомиргороде в семье князя, будущего тульского губернатора. Получил домашнее образование. Военную службу проходил с 1814 г. в 1-й учебной роте лейб-гвардии артиллерийской бригады, в лейб-гвардии Павловском и Финляндском полках. Участвовал в создании «Северного общества» и входил в состав его руководства; разрабатывал программу общества. В ходе неудавшегося восстания штыком ранил М.А. Милорадовича, был арестован и заключён в Петропавловскую крепость. Был осуждён по I разряду с лишением княжеского титула и приговорён к вечной каторге. Однако ещё до прибытия в Иркутск, срок каторги был сокращён до 20 лет.</div>			<div>2 балла (по 1 баллу за каждый правильный ответ)</div>



По манифесту об амнистии в 1856 г. восстановлен в правах. Однако княжеский титул возвращен ему не был. В Калуге продолжал заниматься общественной деятельностью. Принимал участие в подготовке крестьянской реформы 1861 года. Похоронен на Пятницком кладбище.

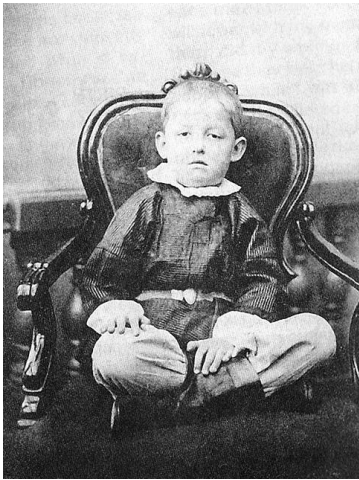

Ответ: Евгений Петрович Оболенский




2. Родился в семье тобольского обер-офицера. Воспитывался в Тобольском военно-сиротском отделении, а также в народном училище и гимназии. Участник Отечественной войны 1812 г. и Заграничных походов русской армии. В 1819–1821 гг. – ближайший помощник М.М. Сперанского по управлению Сибирью. Участвовал в разработке «Устава об управлении инородцев», определявшего правовой статус и внутреннее самоуправление коренных народов Сибири до революции 1917 г. После выхода в отставку вошёл в члены тайного общества. После поражения восстания был приговорён к вечной каторге, смягчённой до 20 лет. В 1827–1846 гг. содержался в одиночной камере Алексеевского равелина Петропавловской крепости. Вёл записи своих мыслей, некоторая часть из которых была опубликована. С 1846 по 1856 год проживал в Томске. После всеобщей амнистии 1856 г. выехал в европейскую часть России. Жил в имении Петрищево Белевского уезда Тульской губернии и в собственном доме в Калуге (ныне здесь филиал КОМЗ). Занимался переводами с французского (остались в рукописях). Скончался в Калуге. Похоронен в с. Петрищево.

Ответ: 1. _____; 2. _____;

Ответ: Гавриил Степанович Батенков (Батеньков)

13.	<p>Перед Вами фотолетопись, связанная с некоторыми этапами биографии и увековечения памяти человека, который хоть и не был по рождению нашим земляком, но сумел стать Гордостью Калужского края. Надеемся, Вы уже догадались о ком идет речь.</p> <p>1. <u>Напишите полностью его Имя, Фамилию и Отечество</u> (1 балл) _____</p> <p>2. Укажите годы его жизни и губернию, в которой он родился (за все - 1 балл) _____</p> <p>3. Каким советским орденом за научные достижения он был награждён? (1 балл) _____</p> <p>4. Назовите город в Калужской губернии, в котором преподавал ученый до перевода в Калугу (1 балл) _____</p> <p>5. Постарайтесь атрибутировать фотографии А, Б, В по времени их появления с точностью <u>до десятилетия</u> (3 балла)</p> <p>6. Укажите, что за памятники изображены на фотографиях Г, Д и где <u>Точно</u> в Калуге они находятся (2 балла):</p>	<p>9 баллов (по 1 баллу за каждый правильный ответ)</p>
	<p style="text-align: center;">А</p> 	<p style="text-align: center;">_____1860-е гг._____</p>
	<p style="text-align: center;">Б</p> 	<p style="text-align: center;">_____1910-е гг._____</p>

В



___1930-е гг._____

Г



___Могила ученого в парке
Циолковского в Калуге
ге_____

Д




___Памятник ученому Сквер
Мира в Калуге_____

Ответ: 1. Константин Эдуардович Циолковский. 2. 1857-1935, с. Ижевское, Рязанская губерния. 3. Орден Трудового Красного Знамени. 4. Боровск

14.	<p>Кого из нижеперечисленных деятелей культуры XX века, связанных с Калужским краем ,можно отнести:</p> <p>1) к поэтам</p> <p>2) к писателям</p> <p>3) кто из них не относится ни к одной из этих групп.</p> <p>Н.А. Заболоцкий, И.С. Шмелев, В.В. Кобликов, Д. Бедный, К.Г. Паустовский, Л.М. Леонов, Б.Ш. Окуджава, П.М. Голубицкий, С.Ю. Куняев, П.А. Кропоткин, Б.К. Зайцев, М.И. Цветаева</p> <table><tr><th>поэты</th><th>писатели</th></tr><tr><td>Н.А. Заболоцкий</td><td>И.С. Шмелев</td></tr><tr><td>Б.Ш. Окуджава</td><td>В.В. Кобликов</td></tr><tr><td>М.И. Цветаева</td><td>К.Г. Паустовский</td></tr><tr><td>С.Ю. Куняев</td><td>Л.М. Леонов</td></tr><tr><td>Д. Бедный</td><td>Б.К. Зайцев</td></tr></table> <p>Ответ не относятся к указанным группам: П.М. Голубицкий, П.А. Кропоткин</p>	поэты	писатели	Н.А. Заболоцкий	И.С. Шмелев	Б.Ш. Окуджава	В.В. Кобликов	М.И. Цветаева	К.Г. Паустовский	С.Ю. Куняев	Л.М. Леонов	Д. Бедный	Б.К. Зайцев	12 баллов (по 1 баллу за каждый правильный ответ – фамилия правильно отнесена к соответствующей группе)
поэты	писатели													
Н.А. Заболоцкий	И.С. Шмелев													
Б.Ш. Окуджава	В.В. Кобликов													
М.И. Цветаева	К.Г. Паустовский													
С.Ю. Куняев	Л.М. Леонов													
Д. Бедный	Б.К. Зайцев													
15.	<p>На территории Калужской области расположены 4 особо охраняемые территории федерального значения, две из них это: Государственный природный заказник «Таруса» и Национальный парк «Угра». Назовите две другие ООТ?</p> <p>Ответ: 1 _____;</p> <p>2 _____</p> <p>Ответ: 1. Государственный природный заповедник «Калужские засеки».</p> <p>2. Государственный памятник природы «Городской бор» города Калуги</p>	2 балла (по 1 баллу за каждый правильный ответ)												

№№ п/п	Содержание задания	Количество баллов					
16.	<p>Распределите в хронологической последовательности указанные события, связанные с трудовыми достижениями жителей Калужской области 1940-1950-х гг. Если Вы знаете точные даты событий - напишите</p> <ol style="list-style-type: none">Начало работы Балабановской спичечной фабрики_____1954Основание фортепианной фабрики «Аккорд» в Калуге _____1947Постановление ГКО о помощи в восстановлении Людиновского локомобильного завода_____16 февраля 1944 г.Запуск Калужского комбината синтетических душистых веществ (СДВ) _____1948Открытие троллейбусного движения в Калуге _____1956 <p>Ответ: 1954, 1947, 16 февраля 1944 г., 1948 г., 1956 г.</p> <table><tr><td>3</td><td>2</td><td>4</td><td>1</td><td>5</td></tr></table>	3	2	4	1	5	6 баллов (1 балл за последовательность и по 1 баллу за дату)
3	2	4	1	5			
17.	<p>В начале 1920-х гг. за подписью очень известного не только в нашей стране, но и во всем мире человека была написана статья «О двойном подчинении», отрывок из которой приведён ниже: «Вопрос о прокуратуре вызвал разногласия в цекистской комиссии, назначенной для руководства работами сессии ВЦИК. Сущность разногласий состоит в следующем: большинство комиссии, выбранной ВЦИК, высказалось по вопросу о прокуратуре против того, чтобы местные представители прокурорского надзора были назначаемы только центром и были подчинены только центру. Большинство требует так называемого «двойного» подчинения, которое установлено вообще для всех местных работников, т. е. подчинения их, с одной стороны, центру</p>	2 балла (по одному баллу за каждый правильный ответ)					

	<p>в лице соответствующего наркомата, с другой стороны — местному губисполкому. ...Есть ли высокомерие в том взгляде, что законность не может быть калужская и казанская, а должна быть единая всероссийская и даже единая для всей федерации Советских республик? Основная ошибка того взгляда, который победил в большинстве комиссии ВЦИК, состоит в том, что они применяют принцип «двойного» подчинения неправильно. «Двойное» подчинение необходимо там, где надо уметь учитывать действительно существующую неизбежность различия. Земледелие в Калужской губернии не то, что в Казанской. То же относится ко всей промышленности. То же относится ко всему администрированию или управлению. Не учитывать во всех этих вопросах местных отличий значило бы впадать в бюрократический централизм ... Между тем, законность должна быть одна, и основным злом во всей нашей жизни и во всей нашей некультурности является попустительство исконно русского взгляда и привычки полудикарей, желающих сохранить законность калужскую в отличие от законности казанской...»</p> <p>Напишите: 1. Фамилию, под которой вошёл в историю человек, написавший статью. 2. Вспомните какой высший государственный пост занимал этот человек во время написания статьи?</p> <p>Ответ: 1 _____;</p> <p>2 _____</p> <p>Ответ: 1. Ленин; 2. Совет Народных Комиссаров (СНК, Совнарком)</p>	
--	--	--

№№ п/п	Содержание задания	Количество баллов
18.	<p>Прочтите отрывок из воспоминаний И. Михайловой, в 1942 г. врача госпитального взвода 146-й стрелковой дивизии: «В ночь на 19 апреля 1942 года внезапно потеплело: бурно начал таять снег, вода стала заливать наши окопы и площадки артиллерии, вода заполнила бесчисленные воронки, из которых очень трудно было выбраться по скользкой грязи. Огромные массы воды хлынули в наши окопы. Раненые не могли выбраться и тонули – это было связано с тем, что правая сторона шоссе была ниже левой, а немцы занимали более высокую левую сторону. Медсанбат находился в деревне Сининка, раненых было огромное количество, дороги были размыты, раненых вывезти было крайне трудно. Мы, врачи и сёстры медсанбата, работали по двое суток без отдыха, продукты питания волокли по мокрому снегу и воде, все были голодными, горячей пищи не было...»</p> <p>Вспомните название населённого пункта в Калужской области, в районе которого с апреля 1942 г. почти целый год шли ожесточённые бои и современный муниципальный округ в котором находится населённый пункт. Возможно Вам в это помогут фотографии монументов, воздвигнутых на местах ожесточённых боёв.</p> 	1 балл



Ответ: _____

Ответ: Зайцева Гора (Барятинский муниципальный округ)

- 19.** 23 мая 1942 г. штаб **Этого** фронта (одно из самых известных воинских объединений в начальный период ВОВ) во главе с **этим** командующим, изображённым на **фото 1** переехал из Перхушково в район **этой** станции. Командный пункт разместился на «Морозовской даче» (до революции принадлежала человеку, **изображенному на Фото 2**, фамилия которого совпадает с названием указанной станции, затем М. К. Морозовой, впоследствии – одно из зданий школы-колонии С. Т. Шацкого «Бодрая жизнь»). Место идеально подходило для этой цели: здания не пострадали от боевых действий, густой лес позволял обеспечить отличную маскировку, а вблизи – железная дорога и Варшавское шоссе. Штаб **Этого** фронта размещался здесь почти целый год – до 16 апреля 1943 г. За это время сменилось трое командующих фронтом. Ни прежде, ни позднее за все годы войны штаб фронта не оставался так долго на одном месте. Здесь разрабатывались стратегические операции, во многом определившие дальнейший ход войны, в том числе Сталинградская. Мы **не спрашиваем Вас**, кто изображён на Фото 2, **ответьте: 1. Название какого фронта пропущено в тексте? 2. Кто из командующих этим фронтом изображён на Фото 1? 3. Как называлась станция, у которой разместился штаб фронта?**



Фото 1



Фото 2

Ответ: 1. _____ ; 2. _____ ; 3. _____

3 балла (по 1 за каждый правильный ответ)

	Ответ: 1. Западный; 2. Г.К. Жуков; Обнинское									
20.	<p>Сохранившиеся данные статистики свидетельствуют, что в определённый период истории численность г. Калуги была выше численности иных значительных торговых и промышленных центров России. Первое место среди городов Центра России, естественно занимала Москва (270 тыс.), Калуга в тот период по численности населения (23 тыс.) сравнивалась с населением Киева, будучи на 4-м месте, после Орла (24,6 тыс.), и почти в два раза уступая другому древнему городу-соседу, находящемуся южнее Москвы, носящему почётное звание Город-Герой. Опираясь на возможные знания и логику, напишите: 1. О каком периоде идёт речь (с точностью до четверти века). 2. Какой город-сосед опережал Калугу, занимая второе место по населению после Москвы? 3. Соотнесите сведения (буква – цифра) о превосходстве численности населения Калуги над численностью населения в других городах России</p> <table><tr><td>1. Одесса</td><td>А. превосходство в девять раз</td></tr><tr><td>2. Симферополь</td><td>Б. превосходство в полтора раза</td></tr><tr><td>3. Нижний Новгород</td><td>В. превосходство более чем в два раза</td></tr><tr><td>4. Царицын</td><td>Г. превосходство в шесть раз</td></tr></table> <p>Ответ: 1 _____; 2 _____; 3 _____</p> <p>Ответ: 1. Первая четверть XIX вв. 2. Тула. 3. А-2; Б-3; В-1; Г-4</p>	1. Одесса	А. превосходство в девять раз	2. Симферополь	Б. превосходство в полтора раза	3. Нижний Новгород	В. превосходство более чем в два раза	4. Царицын	Г. превосходство в шесть раз	6 баллов (по 1 за каждый правильный ответ)
1. Одесса	А. превосходство в девять раз									
2. Симферополь	Б. превосходство в полтора раза									
3. Нижний Новгород	В. превосходство более чем в два раза									
4. Царицын	Г. превосходство в шесть раз									